

活用シート5	問題用紙	年 組 番	名前
--------	------	-------	----

答えは、<sup>かいとう</sup>解答用紙の解答らんに書きましょう。

(一) あいさん、かずやさん、さゆりさん、たろうさんの4人は、1人1つずつ品物を買いました。買ったものは、本、花たば、くつ下、パンです。品物のねだんは300円、600円、750円、1500円でしたが、どの品物がいくらしたのかは分かりません。

次の4人の話から、それぞれが買った品物とそのねだんを答えましょう。



あい

花たばのねだんは、本のねだんの2倍だったよ。




かずや

ぼくは、くつ下を買わなかったけれど、くつ下のねだんは600円だったよ。



さゆり

わたしは、パンを買いました。パンのねだんはあいさんの買ったものより安かったよ。



たろう

ぼくの買ったもののねだんは、1500円だったよ。

(二) なみさんたちは、駅前からバスに乗って動物園に行きます。

動物園までの行き方には、次の2つの方法があります。

【方法1】 ※  はバス停<sup>てい</sup>

駅前 → バス →  公園前 → 徒歩10分 →  学校前 → バス →  動物園前

バスの出発時刻（午前8時～午前11時）と乗車時間

駅前 →  公園前

学校前 →  動物園前

時	分		
8	10	30	50
9	10	30	50
10	10	30	50

時	分		
8	00	20	40
9	00	20	40
10	00	20	40

乗車時間	35分
------	-----

乗車時間	30分
------	-----

【方法2】

駅前 → バス →  病院前  ちがうバスに乗りかえ  病院前 → バス →  動物園前

バスの出発時刻（午前8時～午前11時）と乗車時間

駅前 →  病院前

病院前 →  動物園前

時	分		
8	15	35	55
9	15	35	55
10	15	35	55

時	分		
8	20	50	
9	20	50	
10	20	50	

乗車時間	40分
------	-----

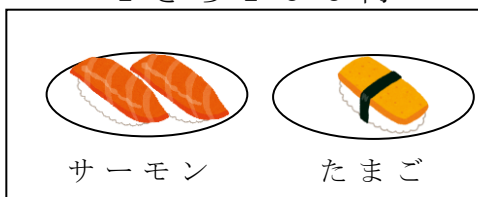
乗車時間	25分
------	-----

「駅前」のバス停をできるだけおそい時刻に出発し、午前10時20分までに「動物園前」のバス停に着くためには、「駅前」を何時何分に出発するバスに乗ればいいですか。次のア～オに当てはまる数や言葉を書きましょう。

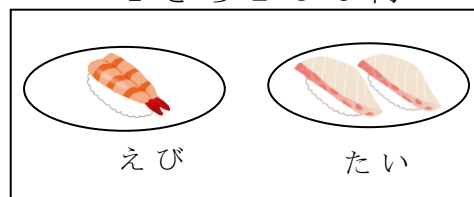
午前  ア 時  イ 分に出発する  ウ 行きのバスに乗ると、動物園前のバス停に、午前  エ 時  オ 分に着きます。

(三) はるえさん、まことさん、やすよさんの3人が、すし屋で食事をしました。その店には、次の8品のすしがありました。

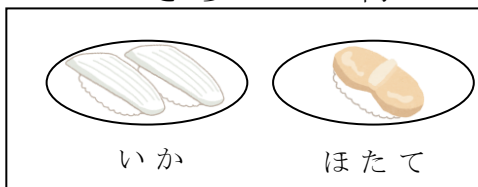
1さら100円




1さら250円



1さら300円



1さら350円



すしを食べた後、3人は次のように話しました。



わたしは、1さらに2個の<sup>こ</sup>っているすしだけを注文しました。代金は700円でした。

はるえ



ぼくは3さら注文しましたが、いくら<sup>は</sup>注文しませんでした。1000円を出すと、おつりは50円でした。

まこと



わたしは、ほたては注文しませんでした。1000円でできるだけ多くの種類<sup>しゅるい</sup>のすしを食べようと考えて、注文しました。

やすよ

3人とも、同じすしは1さらしか注文しませんでした。3人は、それぞれのすしを食べましたか。答えを書きましょう。

月 日

活用シート5	かいとう 解答用紙	年 組 番	名前
--------	--------------	-------	----

(一)

あい	品物	ねだん	円
かずや	品物	ねだん	円
さゆり	品物	ねだん	円
たろう	品物	ねだん	円

(二)

ア		イ		ウ	
エ		オ			

(三)

はるえ	
まこと	
やすよ	

このドリルを楽しみながらできるようになれば、実力がもっとアップするよ。 )^o^(



- (一) あい 品物 くつ下 ねだん 600円  
かずや 品物 本 ねだん 750円  
さゆり 品物 パン ねだん 300円  
たろう 品物 花たば ねだん 1500円
- (二) ア 8 イ 55 ウ 病院前 エ 10 オ 15
- (三) はるえ サーモン、たい、まぐろ  
まこと いか、ほたて、まぐろ  
やすよ サーモン、たまご、えび、たい、いか