

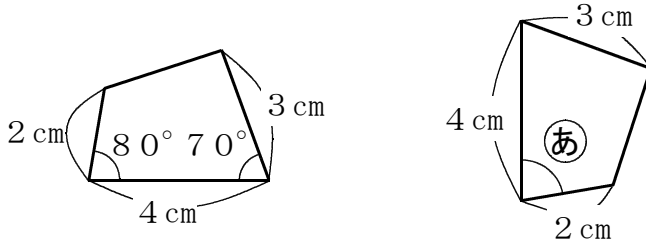
フォローアップシート No. 3 図形

()年()組・名前()

／8問

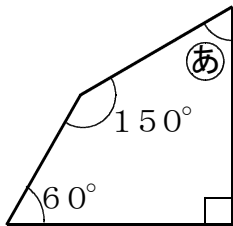
○ 答えは、すべて解答らんに書きましょう。

1 次の図にある2つの四角形は合同です。このとき、**あ**の角の大きさは何度ですか。答えを書きましょう。

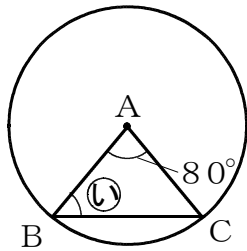


度

2 次の**あ**、**い**の角の大きさは何度ですか。答えを書きましょう。



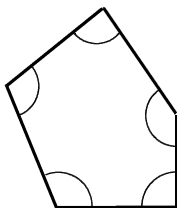
あ 度



- ・ 点Aは円の中心
- ・ 点B、Cは円周上の点

い 度

3 次の五角形の5つの角の和は何度ですか。答えを書きましょう。

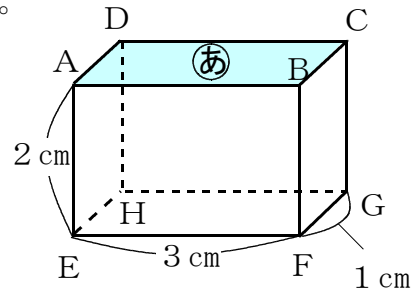


度

4 右の直方体について、①、②の各問いに答えましょう。

① 面 **あ** について正しいものを、次のア～エの中から1つ選んで、その記号を書きましょう。

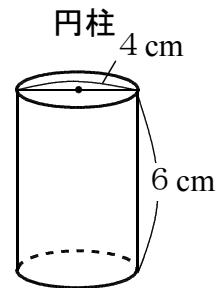
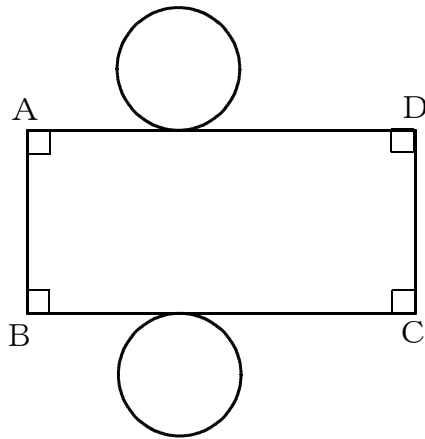
- ア たてが 1 cm、横が 3 cm の長方形
- イ たてが 2 cm、横が 3 cm の長方形
- ウ 底辺が 3 cm、高さが 1 cm の平行四辺形
- エ 底辺が 3 cm、高さが 2 cm の平行四辺形



② 面 **あ** に垂直な辺がいくつかあります。面 **あ** に垂直な辺を1つ選んで書きましょう。

辺

5 下の図は、右の円柱の展開図です。①、②の各問いに答えましょう。ただし、円周率は 3.14 とします。



① 辺 AB の長さは何 cm ですか。答えを書きましょう。

cm

② 辺 AD の長さは何 cm ですか。答えを書きましょう。

cm